

Příklady kontrolních otázek pro činnosti na železničním spodku a svršku
Příklady jsou informativního charakteru a nemusí plně korespondovat s otázkami v písemném testu
Zkouška K-03 (Část dopravní)
**Předpis SŽ D1
ČÁST PRVNÍ**

Dopravní a návěstní předpis pro trať nevybavené evropským vlakovým zabezpečovačem

	čl. (bod)	Příklady testových otázek
001	1 (2)	Jak se jmenuje předpis státní organizace Správa železnic D1 ČÁST PRVNÍ?
002	10 (1)	Co se rozumí pod pojmem Trať?
003	10 (2)	Co je to Prostorový oddíl?
004	10 (7)	Správnou kolejí se rozumí:
005	11 (1)	Co se rozumí pod pojmem Dopravna?
006	11 (2)	Co se rozumí pod pojmem Železniční stanice?
007	13 (1)	Co je to Trať se zjednodušeným řízením drážní dopravy?
008	13 (2)	Co je to Přilehlá stanice?
009	22 (1)	Co je to Základní dopravní dokumentace (ZDD)?
010	22 (2)	Co je to Staniční řád?
011	22 (4)	Prováděcí nařízení je vydáváno pro:
012	24 (3)	Co je to Volný schůdný a manipulační prostor?
013	24 (5da)	Jaká musí být vzdálenost od vnitřní hrany kolejnice sypkého materiálu složeného vedle kolejí?
014	24 (5db)	Materiál složený v koleji musí být uložen tak, aby při vnitřních hranách kolejnic byl volný prostor:
015	24 (5dc)	Které předměty se nesmějí ukládat ve vzdálenosti menší než 130 cm od vnitřní hrany kolejnice?
016	26 (5)	Kdo je to Výhybkář?
017	26 (10)	Kdo je to Závorář?
018	37	Za jakých podmínek je povolen vstup do služebních místností SŽ cizím osobám?
019	38 (1)	Vjezd a vstup do prostor veřejnosti nepřístupných je:
020	38 (2)	Prostory SŽ veřejnosti nepřístupné jsou všechny prostory, s výjimkou:
021	44 (2)	Co je to Záhlaví?
022	44 (7)	Co je to Zhlaví?
023	44 (13)	Co je to Spojovací kolej?
024	44 (15)	Co se rozumí pod pojmem Hlavní kolej?
025	44 (27)	Co je to Kolejová spojka?
026	44 (31)	Co se považuje za Souběh kolejí?
027	69 (1)	Je-li návěstidlo výkolejky poškozeno:
028	69 (3)	Návěstidla výkolejek, točen a přesuven se umísťují:
029	126 (1)	Jak se dává návěst Stůj, zastavte všemi prostředky?
030	127 (6)	Kde je při krytí koleje dovoleno umístit přenosné návěstidlo s návěstí Stůj?
031	127 (7)	Při krytí koleje je povoleno umístit přenosné návěstidlo s návěstí Stůj na stožár návěstidla:
032	128	Jak se dává návěst Výstraha?
033	129 (1)	Návěst Pozor se dává:
034	129 (9)	Návěst Požární poplach upozorňuje:
035	131 (1)	K čemu slouží námezník?
036	131 (1)	Návěst Hranice koleje upozorňuje:
037	131 (3)	Co stanovuje Návěst Konec vlakové cesty a návěst Hranice koleje?
038	131 (4)	Co je to Koncovník?
039	132 (1)	Kde se umísťuje návěstidlo Hraničník?
040	132 (1)	Jakou návěst poskytuje návěstidlo Hraničník?
041	159 (4)	Co je to Návěstidlo pro pomalou jízdu?
042	159 (5)	Co je to Tabule Z?
043	159 (6)	Co je to Tabule K?
044	163 (1)	Co se rozumí pod pojmem Varovné návěstidlo?
045	163 (2)	Kde se umísťuje Světelný výstražný terč s jedním zábleskovým světlem?
046	163 (3)	Co je to Varovné návěstidlo s jedním zábleskovým světlem?
047	163 (4)	Co je to Zařízení automatického varování?
048	164 (1)	Co je to Výstražný kolík s dočasnou platností pro pracovní místa?
049	211 (1)	Co je to Označník?
050	312 (1)	Jak se zachová zaměstnanec pokud zjistí závadu ohrožující bezpečné provozování drážní dopravy?
051	430 (1)	Co je to Lehký kolejový prostředek?
052	430 (3)	Jáká je max. doba k odstranění lehkého kolejového prostředku z koleje v provozované koleji?
053	431 (2)	Musí si vedoucí prací ve stanici vyžádat svolení od výpravčího k nasazení lehkého kolejového prostředku?
054	451 (2)	Každý zaměstnanec je povinen ohlásit všechny mimořádnosti:

Předpis SŽ D3

Předpis pro zjednodušené řízení drážní dopravy

	čl. (bod)	Příklady testových otázek
055	1 (1)	Jak zní název předpisu SŽ D3?
056	8 (2)	Zaměstnanci, kteří na základě smluvního vztahu vykonávají pro SŽ práce nebo jinou činnost na tratích D3 musí mít Zmocnění. Kdo a za jakých podmínek toto Zmocnění vydává?

Předpis SŽ D4

Předpis pro řízení drážní dopravy na tratích vybavených radioblokem

	čl. (bod)	Příklady testových otázek
057	1 (1)	Jak zní název předpisu SŽ D4?
058	28 (1)	Dispečer RB je povinen zajistit, aby rozříznutí výhybky bylo ohlášeno odpovědnému zamestanci OSPD:

Předpis SŽ D7/2

Organizování výlukových činností

	čl. (bod)	Příklady testových otázek
059	4 (1)	Základní pravidla pro konání výluk (např. podmínky pro zahájení, přerušení a ukončení) stanovuje předpis:
061	4 (20)	Co je to plán výluk?
062	38 (2)	Může být ROV (ROV A) zpracován pro více výluk?
063	39 (4)	Co je to ROV B (rozkaz o výluce B)?
064	39 (5)	Co je to ROV C (rozkaz o výluce C)?



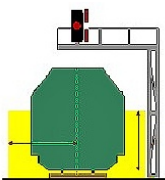

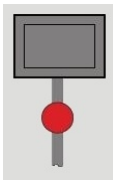

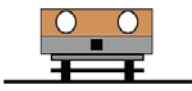





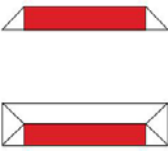
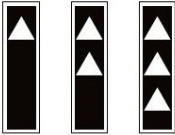






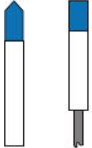

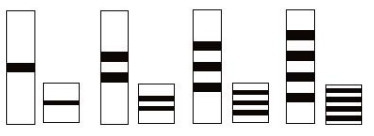
Příklady kontrolních otázek pro činnosti na železničním spodku a svršku

Příklady jsou informativního charakteru a nemusí plně korespondovat s otázkami v písemném testu

Zkouška K-03 (Část dopravní)

Předpis SŽ D1 ČÁST PRVNÍ

Dopravní a návěstní předpis pro tratě nevybavené evropským vlakovým zabezpečovačem

Příklady testových otázek					
065 066 067 068 069	<p>čl. 126</p>  <p>PRAPOREK (jakýkoliv předmět nebo jen ruka) ruční denní návěst</p>	<p>čl. 132</p> 	<p>čl. 24</p> 	<p>čl. 134</p> 	<p>čl. 127</p> 
	Uvedte správný název návěsti.	Jak se jmenuje tato návěst?	Žluté je vyznačen:	Co předvěstí tato návěst?	Tato návěst prikazuje:
070 071 072 073 074	<p>čl. 165</p> 	<p>čl. 149</p> 	<p>čl. 137</p> 	<p>čl. 101</p> 	<p>čl. 63</p> 
	Jak se jmenuje toto návěstidlo?	Uvedte správný název návěsti	Toto návěstidlo informuje:	Co znamená tato návěst?	Co indikuje toto návěstidlo?
075 076 077 078 079	<p>čl. 129</p>  <p>pišťalka, lokomotivní houkačka</p>	<p>čl. 142</p> 	<p>čl. 131</p> 	<p>čl. 130</p> 	<p>čl. 160</p> 
	Uvedte správný název návěsti.	Jak se jmenuje toto návěstidlo?	Co znamená tato návěst?	Jak se jmenuje tato návěst?	Co znamená tato návěst?
080 081 082 083	<p>čl. 133</p> 	<p>čl. 139</p> 	<p>čl. 147</p>  <p>ruční denní návěst svítlna s bílým světlem ruční noční návěst lokomotivní houkačka slyšitelná návěst</p>		<p>čl. 194</p> 
	Uvedte správný název návěsti.	Co znamená tato návěst?	Uvedte správný název návěsti.		Co stanovuje tato návěst?
084 085 086 087 088	<p>čl. 164</p> 	<p>čl. 211</p> 	<p>čl. 161</p> 	<p>čl. 130</p> 	
	Jak se jmenuje toto návěstidlo?	Co znamená tato návěst?	Jak se nazývá toto návěstidlo?	Na co upozorňuje tato návěst?	